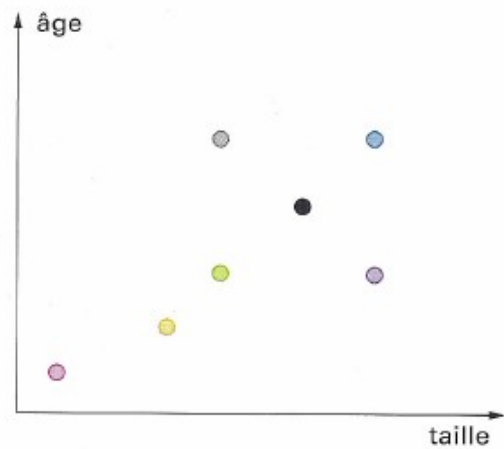



O2-F02b
Activité

Le personnel du collège

Chaque personne est représentée sur la graphique par un point.



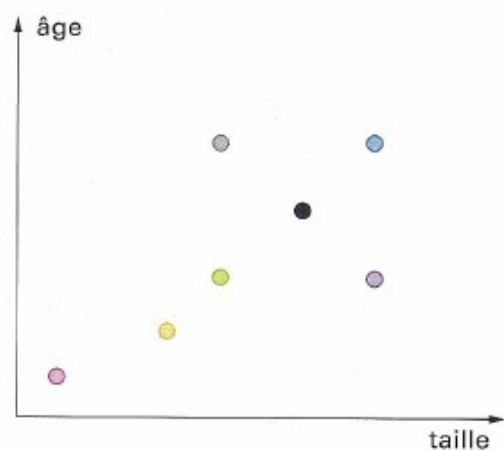

D'après Petit x, numéro spécial activités.

- 1) Associer à chaque point le nom de la personne qu'il représente.
- 2) A combien d'informations correspond un point sur un graphique ?

O2-F02b
Activité

Le personnel du collège

Chaque personne est représentée sur la graphique par un point.



D'après Petit x, numéro spécial activités.

- 1) Associer à chaque point le nom de la personne qu'il représente.
- 2) A combien d'informations correspond un point sur un graphique ?