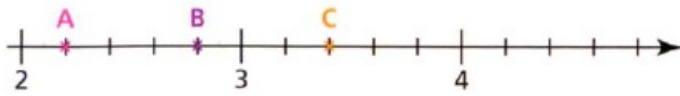


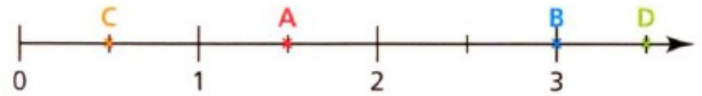
Exercice 1

Donner l'abscisse de chaque point de cette droite graduée.



Exercice 2

Donner l'abscisse de chaque point de cette droite graduée.



Exercice 3

Reproduire la demi-droite graduée ci-dessous et y placer chacun des points suivants.

I d'abscisse 3,4 N d'abscisse 3,9
F d'abscisse 2,8 D d'abscisse 4,3



Exercice 4

Reproduire la demi-droite graduée ci-dessous.



Placer approximativement les points E, S et Y d'abscisses respectives 25,326 ; 25,87 et 24,98.

Exercice 5

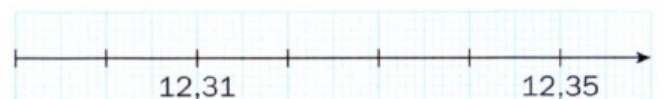
Reproduire la demi-droite graduée ci-dessous et placer les points I(4,8), E(5,2), N(4,75), T(5,1) et U(4,6).



Exercice 6

Reproduire la demi-droite graduée ci-dessous et placer les points O, Z, E, D et U d'abscisses respectives :

12,32 • 12,345 • 12,36 •
12,29 • 12,333



N1 - F07
Correction

Exercice 1

A(2,2) B(2,8) C(3,4)

N1 - F07
Correction

Exercice 2

C(1,5) B(3) C(0,5) D(3,5)

N1 - F07
Correction

Exercice 3



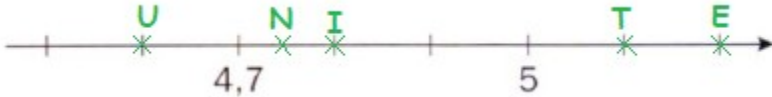
N1 - F07
Correction

Exercice 4



N1 - F07
Correction

Exercice 5



N1 - F07
Correction

Exercice 6

