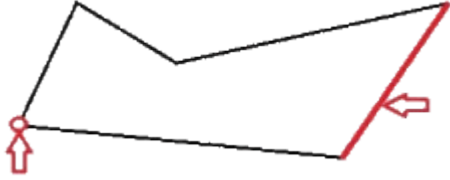


# Polygones



**Définition :** Un ..... est une figure géométrique composée de ..... reliés les uns aux autres et qui se referme sur elle-même.

**Exemple :**



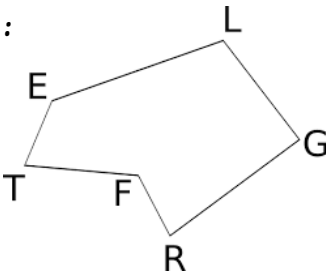
**Remarques :** Un polygone a au moins ..... côtés. Il a ..... de sommets que de côtés.

**Nature des polygones :**

Nombre de côtés					
Nom du polygone	TRIANGLE	QUADRILATÈRE	PENTAGONE	HEXAGONE	OCTOGONE

**Nommer un polygone :** On donne la liste de sommets du polygone .....

**Exemple :**



le polygone ci-contre s'appelle :

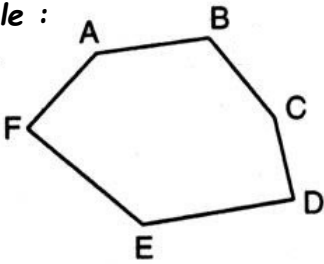
ou

ou

, etc.

**Définition :** Deux ..... sont ..... s'ils ont un sommet commun.

**Exemple :**



et sont consécutifs

et sont consécutifs

et ne sont pas consécutifs